

臺閩地區 104 年自學進修技術型高級中等學校畢業程度
學力鑑定考試

生活領域科試題本

考試開始鈴(鐘)響前，不可以翻閱試題本！
請先確認你的答案卡、准考證與座位號碼是否一致無誤！

【注意事項】

- 一、本試題共 50 題，每題 2 分，共 100 分。本試卷選擇題均為單一選擇題，每題都有 (A)、(B)、(C)、(D) 四個選項，請選出一個最適當答案，在答案卡同一題號對應方格內，用 **2B** 鉛筆塗滿方格，但不超出格外。答對者得題分，答錯者不倒扣，未答者以零分計。
- 二、如果需要修改答案，請使用橡皮擦擦拭乾淨，切勿使用修正液(帶)。未依規定畫記答案卡，致機器掃描無法辨識答案者，其後果由考生自行承擔。
- 三、應考人不得竄改答案卡上之准考證號碼，違者該科不予計分。
- 四、請在試題本首頁准考證號碼之方格內，填上自己的准考證號碼，考完後將「答案卡」及「試題」一併繳回。

准考證號碼：





考試開始鈴(鐘)響時，請先填寫准考證號碼，再翻閱試題本作答。

1. 有關小華未來的生涯發展，主要負責規劃的人是？
(A) 小華父母 (B) 小華老師
(C) 小華朋友 (D) 小華本人
2. 依美國生涯學者舒伯（Super）所提出的生涯發展階段與任務而言，高職一年級的安安現階段最重要的生涯任務是？
(A) 做好升學與就業的準備 (B) 努力賺錢，增加工作經驗
(C) 建立工作世界的概念 (D) 維持自己在職業上的成就感
3. 對準備要考統一入學測驗的高職生而言，下列哪個網站能提供此一考試的相關訊息？
(A) 財團法人技專校院入學測驗中心 (B) 大學入學考試中心
(C) 技專校院招生策進總會 (D) 大學網路博覽會
4. 台灣導演侯孝賢因執導的最新武俠電影《聶隱娘》榮獲第 68 屆坎城影展最佳導演獎，電影導演這職業在生涯學者荷倫（Holland）的興趣六型中為哪一型的典型職業？
(A) I（研究型） (B) R（實際型）
(C) A（藝術型） (D) S（社會型）
5. 「每一個人都是獨一無二的，生涯的道路也都不盡相同，雖然你和同班同學就讀同一科別，未來在升學和就業的方向上也可能在同一個領域，但在生涯展現上卻都各有自己的獨特之處。」請問，這是屬於生涯特性中的：
(A) 主動性 (B) 獨特性
(C) 空間性 (D) 現象性
6. 泓諭在學習檔案中，列出他在參與康輔社時擔任副社長的經歷，其中包含活動照片、師長推薦函、幹部證書，但仍被生涯規劃課老師視為資料不夠完整，泓諭可以將下列何者納入學習檔案中使其更完整？
(A) 擔任康輔社幹部學習心得與收穫 (B) 康輔社社團行事曆
(C) 幹部訓練講義 (D) 康輔社組織章程
7. 對個人價值與能力的評價，屬於「自我概念」中的：
(A) 道德我 (B) 家庭我
(C) 生理我 (D) 心理我
8. 享譽美國腦神經外科權威的門諾醫院院長黃勝雄醫師，於 1991 年毅然放棄美國的榮譽和高薪回國到花蓮服務，樂於至偏遠山區巡迴醫療，他說：「物質上的東西我都有，但生命真正的意義不在物質」，請問，黃醫師的所重視的生涯價值觀是？
(A) 利他主義 (B) 經濟報酬
(C) 成就滿足 (D) 安全穩定

9. 小明在參加四技二專推薦甄選時，同時甄選上三所校系，他不知道該抉擇哪一所就讀，請問下列何者可以幫助他做理性的生涯決定？
- (A) 心理測驗 (B) SWOT 分析
(C) 生涯決策平衡單 (D) 學業成績單
10. 樂樂為了讓自己對未來的職業有更深的瞭解和認識，因此他想做生涯訪談，請問當樂樂進行生涯訪談時應注意避免：
- (A) 事先擬定訪談內容要項 (B) 不經同意，就拍照、錄音或攝影
(C) 事先約定時間並準時到達 (D) 訪談結束後，真誠致謝
11. 石頭想參加四技二專技優甄審入學，他需取得何種等級以上的技術士證？
- (A) 甲級 (B) 乙級
(C) 丙級 (D) 無規定
12. 品韻將來想從事與電機有關的工作，因此他上網收集電機相關資訊，主動和師長討論分析，然後才做決定。請問他的決定風格是屬於下列哪一種類型？
- (A) 依賴型 (B) 猶豫型
(C) 直覺型 (D) 理性型
13. 「坐而言，不如起而行。」指的是一個人要生涯成功，應該要有：
- (A) 生涯規劃 (B) 生涯決定
(C) 生涯行動 (D) 生涯管理
14. 喜歡畫畫、幫洋娃娃打扮的志傑想出國唸服裝設計，因而尋求眾人的建議，試問下列何者建議較能跳脫性別框架？
- (A) 國中麻吉小雄：唸這個能當飯吃嗎？服裝設計耶，這工作感覺也太娘了吧，要像我這樣在工地當監工靠體力賺錢才 MAN！
(B) 爸爸：你從小就很細心而且常被老師稱讚很有美感，搞不好你可能成為第二個古又文哦！
(C) 高職老師：這行業感覺應該多數都是女生耶，你可能要加倍努力才能出頭天。
(D) 媽媽：男生在衣服堆中怎麼可能會有出息啊？
15. 下列哪些是在應徵工讀工作時的注意事項？
- (甲) 請家人朋友陪同面試，注意安全
(乙) 工作內容若模糊、不確定，應予避免
(丙) 勿隨意留下證件正本，以防受騙
(丁) 是要找一輩子的事業，要慎重
- (A) 甲乙丙 (B) 乙丙丁
(C) 甲乙丁 (D) 甲乙丙丁

16. 瑪莎喜歡規律的生活，加上最近父親經商失敗，家裡經濟陷入困境，剛好學校最近為高三學生辦了一場升學博覽會，在參觀過程中，瑪莎聽完某科大雙軌訓練旗鑑計劃的介紹，了解這管道可以邊工作邊就學，因此決定以雙軌旗鑑計劃做為做為高職畢業後升學的主要管道。瑪莎於升學博覽會得知「雙軌訓練旗鑑計劃事宜」是生涯規劃模式中的：
- (A) 自我認識 (B) 社會與環境因素
(C) 教育與職業資料 (D) 不符合生涯金三角模式
17. 俗云「富不過 3 代」，然而洛克菲勒家族從發跡至今已經綿延 6 代，石油大王洛克菲勒藉由「留給兒子的 38 封信」來教養他的下一代，請問這顯示著什麼的重要性？
- (A) 成人教育 (B) 家庭教育
(C) 學校教育 (D) 社會教育
18. 阿祥利用暑假在飲料店打工，他發現自己比較喜歡內場調製飲料的工作。內場的工作有標準化作業流程（SOP），只要細心執行就能勝任上手；對於外場收銀、和客人應對等工作，他反而覺得不自在，這在生涯學者舒伯（Super）的六大職業型態中，阿祥比較適合從事：
- (A) 社會服務型的工作 (B) 研發創新型的工作
(C) 企業推銷型的工作 (D) 傳統事務型的工作
19. 依據我國現行憲法規定，行政院必須向下列何者負責，因而行政院有向其提出施政方針及施政報告之責？
- (A) 總統 (B) 立法院
(C) 司法院 (D) 監察院
20. 朱先生意外身故後，家中還有爺爺、奶奶、父母、妻、一弟一妹、一子。這些繼承人除朱妻以外，請問他的繼承第一順位是誰？
- (A) 爺爺、奶奶 (B) 父母
(C) 弟、妹 (D) 子
21. 刑法中可以獨立課處的刑罰稱主刑，下列哪項不是我國刑法中的主刑？
- (A) 沒收 (B) 拘役
(C) 有期徒刑 (D) 死刑
22. 未領有駕駛執照而駕駛汽車或機車，按照現行道路交通管理處罰條例是要被處罰多少罰鍰？
- (A) 六百元以上一千二百元以下 (B) 一千二百元以上六千元以下
(C) 六千元以上一萬二千元以下 (D) 一萬二千元以上六萬元以下
23. 依照國家賠償法的規定，請求賠償的人應該在知道有損害時起多久內，將「國家賠償請求書」寄送到應負責的賠償義務機關，請求賠償？
- (A) 三個月內 (B) 六個月內
(C) 一年內 (D) 二年內

24. 我國的法律在立法院制定後，要經過下列何者公布後才能施行發生效力？
- (A) 行政院 (B) 立法院
(C) 司法院 (D) 總統
25. 刑法中稱的「累犯」，指已遭受徒刑之執行完畢，或一部分之執行而赦免後，多久以內，故意再犯有期徒刑以上之罪者，加重本刑至二分之一？
- (A) 二年以內 (B) 三年以內
(C) 五年以內 (D) 六年以內
26. 依照民法的規定，姻親關係有三種，下列哪項不是？
- (A) 血親之配偶 (B) 血親之配偶之血親
(C) 配偶之血親 (D) 配偶之血親之配偶
27. 請問：「自 2007 年開始，第七屆立法委員的任期為幾年一任？」
- (A) 2 年 (B) 3 年
(C) 4 年 (D) 5 年
28. 發生下列何事可到法院「按鈴申告」？
- (A) 被人毆打受傷 (B) 老婆騎機車不戴安全帽
(C) 心愛的寵物小狗失蹤 (D) 要求機車考照年齡降到 15 歲
29. 依照 97 年 5 月 23 日新修訂的民法，林先生和何小姐的婚姻若要有效力，其中一個要件為雙方當事人須到「何處」辦理結婚登記？
- (A) 法院 (B) 警察局
(C) 戶政機關 (D) 地政機關
30. 根據消費者保護法的規定，對於郵購或推銷的商品如果不滿意，消費者可於收到商品幾天內退回？
- (A) 5 天 (B) 7 天
(C) 10 天 (D) 14 天
31. 我國男性擁有 5 天陪產假且可留職停薪請育嬰假，這是依據下列何法？
- (A) 性別工作平等法 (B) 性別平等教育法
(C) 民法 (D) 家庭暴力防治法。
32. (甲)命令 (乙)憲法 (丙)法律，請問其位階順序為何（低→高）？
- (A) 甲乙丙 (B) 甲丙乙
(C) 乙丙甲 (D) 丙甲乙

33. 一個人的行為觸犯下列何種法律的規定時，這種行為就叫做「犯罪行為」？
- (A) 刑法 (B) 憲法
(C) 民法 (D) 強迫入學條例
34. 家庭暴力防治法中的民事「保護令」，必須向哪個單位聲請核發？
- (A) 家庭暴力防治委員會 (B) 村里長
(C) 警察 (D) 法院
35. 開車的人在不知如何到達目的地時，常會開啟導航來帶路，導航是一種利用太空衛星來準確定位目標所在位置的系統，稱為全球定位系統，簡稱為何？
- (A) CAD (B) GPS
(C) OA (D) PDA
36. 小方上網到 <http://www.ntu.edu.tw> 網站找資料，由其網域名稱可知它所代表的機構為何？
- (A) 政府機構 (B) 商業機構
(C) 網路機構 (D) 教育學術機構
37. 關於創用 CC 授權條款標示，下列何者不正確？
- (A)  表示允許他人對你的著作原封不動地進行重製、散佈、展示及演出等利用行為，但不得產出衍生著作
- (B)  表示必須按照作者或授權人所指定的方式，表彰其姓名
- (C)  表示允許他人對你的著作及衍生著作加以販賣，唯價格必須合理
- (D)  表示若改作作品，必須沿用原授權條款分享
38. 在網路上進行電子交易已日漸擴大與頻繁，網路交易的安全性更為重要，下列何者是對於安全交易的要求？
- (A) 確認該網站是否經過認證
(B) 公開賣家所有個人資料，以昭公信
(C) 消費者在交易過程中可以隨時取消交易
(D) 交易後，不可要求退貨
39. 小花要辦理同學會，正準備從通訊錄檔中印製信封，並將通知單寄給全班同學，請問 Microsoft Word 中哪一項功能最適合小花的需求？
- (A) 合併列印 (B) 公文製作
(C) 雙面列印 (D) 目錄製作
40. 婷婷想把同學傳給她的一個小動畫存下來，她在圖片上按滑鼠右鍵，選「另存圖檔」，結果在自己的電腦只看到 jpg 的檔案，她知道應該存成動畫檔才對，請問下列哪一種影像檔的格式可以支援動畫？
- (A) BMP (B) GIF
(C) JPEG (D) TIF

41. 當關閉電腦的電源時，下列何種記憶體的內容也會消失？
(A) 唯讀記憶體 (B) 隨機存取記憶體
(C) 磁帶 (D) 光碟
42. 下列哪一項不是網路設備？
(A) 橋接器 (Bridge) (B) 路由器 (Router)
(C) 編譯器 (Compiler) (D) 交換器 (Switch)
43. 在 Windows 的「檔案總管」中，如果想要檢視檔案的修改日期，應選擇哪一種檢視模式？
(A) 詳細資料 (B) 清單
(C) 大圖示 (D) 並排
44. 「iTaiwan」是行政院所推行的公共區域免費無線上網服務。請問此一服務最可能提供下列哪一種上網方式？
(A) 纜線數據機 (Cable Modem) (B) 非對稱式數位用戶線路 (ADSL)
(C) 無線區域網路協定 (Wi-Fi) (D) 專線
45. 如右圖 QR 碼，我們使用可解讀 QR 碼的手機拍下圖案，就可以解讀圖案所代表的資訊。請問 QR 碼是：
(A) 報稅系統 (B) 三維條碼
(C) 電子收費系統 (D) 二維條碼
- 
46. Windows「控制台」中的何項功能，可以用來「新增/移除」某一種中文輸入法？
(A) 裝置管理員 (B) 防火牆
(C) 使用者帳戶 (D) 地區及語言
47. 長時間不當使用鍵盤、滑鼠，造成手部在施力時產生疼痛、麻木、甚至無力的病症，稱之為？
(A) 腕隧道症候群 (B) 感冒
(C) 亞斯伯格症 (D) 阿茲海默氏症
48. 小弦想要將自己智慧手機拍攝的照片轉存到電腦中，並列印出來與朋友分享。請問列印設備在電腦的五大單元中，是歸屬為下列哪一種單元？
(A) 控制單元 (B) 輸入單元
(C) 輸出單元 (D) 記憶單元
49. 每年五月報稅，財政部國稅局都會提供報稅程式讓納稅義務人下載使用，請問此項軟體是屬於下列何種軟體？
(A) 公共軟體 (B) 免費軟體
(C) 共享軟體 (D) 試用軟體

50. 請問如下圖之流程圖符號是代表何種意義？



(A) 決策或判斷

(B) 迴圈

(C) 處理

(D) 開始或結束

試題結束