

教育部 97 年職業學校畢業程度自學進修學力鑑定考試

生活領域 試題

准考證號碼：□□□□□





注意
事項

- 一、本試題共 50 題，每題 2 分，共 100 分。每題都有(A)(B)(C)(D)四個答案，其中只有一個答案是正確的。將正確的答案選出，然後在答案卷卡同一題號相對位置寫上正確答案，答對者得題分，答錯者不倒扣，不答者以零分計。
- 二、請先在試題卷首准考證號碼之方格內填上自己的准考證號碼，考完後將「答案卷卡」、「試題」一併繳回。

- 舒波 (Super) 將生涯發展階段劃分為五期：
甲、試探期 乙、保持期 丙、決定期 丁、成長期 戊、衰退期
請依生涯發展階段的順序，何者為正確？
(A)丁甲乙丙戊 (B)丁丙乙甲戊 (C)丁甲丙乙戊 (D)丁丙甲乙戊
- 馬斯洛 (Maslow) 的需求層次理論是將人的需求分成五個階層：
甲. 被人尊重 乙. 歸屬感 丙. 安全感 丁. 生理需求 戊. 自我實現，
依由下而上層次順序排列，下列何者為正確？
(A)丁戊甲乙丙 (B)丁乙丙甲戊 (C)丁丙乙甲戊 (D)丁甲乙丙戊
- 小明要和班上同學去「追星」，結果小明的父母親反對，認為學生是以讀書為重，親子因鬧得不愉快，小明覺得父母親不了解他，此乃是親子之間何種的差異？
(A)價值觀 (B)政治觀 (C)社會觀 (D)國際觀
- 具有「記錄學習進步的軌跡，找出自我不足須做補救的部份，建立自尊心及學習動機，鼓勵對自己的學習負責」的功能，這稱為：
(A)學習日誌 (B)學習軌跡 (C)學生檔案 (D)學習檔案
- 學校做性向測驗，是幫助學生進行自我探索，更加了解自己。是符合生涯規劃三要素的哪一個？
(A)知己 (B)知彼 (C)行動與抉擇 (D)適應
- 個人資產 SWOT 分析法是生涯抉擇的助力之一，請問 W 是代表何種意義？
(A)個人面臨的威脅 (B)目前有哪些機會
(C)個人具有哪些劣勢 (D)個人具有哪些優勢
- 何倫 (Holland) 將一個人的生涯興趣分為六種類型，請問「教師」是屬於何種生涯興趣類型？
(A)實際型 (B)藝術型 (C)社會型 (D)事務型
- 小明的資料中有一段文字敘述，「我在寒暑假的時候，都會主動參與慈濟的義工隊，宣導環境保護的重要」，請問這可以歸類為學習檔案內容的：
(A)自傳 (B)基本資料 (C)學科活動紀錄 (D)校外活動紀錄
- 自我特質與職業選擇關係密切，下列敘述，何者正確？
(A)人生最好的選擇就是努力升學，考上一所好學校
(B)人格特質是先天遺傳的，無法改變
(C)選擇職業時，需一併考量對生活可能造成的影響
(D)自我特質有高低之分，有的較好，有的較差

10. 若你的個人特質為「不拘小節、隨性」，最好考慮下列哪項職業？
(A)出納 (B)教師 (C)技師 (D)畫家
11. 下列有關「性別平等」的敘述，何者正確？
(A)女性具備母性，是女性角色最典型的象徵
(B)男女性別角色只要遵照傳統即可，不必有其他考量
(C)溫柔和順是女性的天性，這樣才叫做淑女
(D)男性一樣適合參與親職活動，也可以共同分擔家務
12. 如果不幸被強暴了，下列後續行為，何者「錯誤」？
(A)了解自己受傷的情況，並以藥物來避免受孕
(B)立刻清洗身體及更換衣物
(C)立刻向警方報案
(D)可找友人陪同前往醫療機構驗傷及採證
13. 性別平等是國民的基本人權，下列敘述，何者正確？
(A)男女同工同酬 (B)男主外，女主內
(C)男尊女卑 (D)男怕入錯行，女怕嫁錯郎
14. 在今日多元變遷、競爭激烈的社會裡，不懂得情緒管理，便容易陷入情緒化的緊張與衝突。下列關於「情緒」的敘述，何者正確？
(A)情緒只影響心理，不影響生理
(B)情緒管理只能期待外在環境的改變
(C)產生情緒是個人修養不足，所以最好不要「有」情緒
(D)適當解除壓力，是調整情緒的重要方法
15. 「在家靠父母，出外靠朋友」這句話可以看出下列何者的重要性？
(A)情緒管理 (B)人際關係 (C)休閒生活 (D)家庭互動
16. 在1997年通過的「京都議定書」，目的是管制一些已開發國家和歐盟的溫室氣體排放，如：
(A)二氧化氮 (B)二氧化碳 (C)一氧化氮 (D)一氧化碳
17. 法律所規範的內容若屬於個人與個人之間「私的權利義務關係」，則為：
(A)行政法 (B)公法 (C)程序法 (D)私法
18. 某人因為不服交通警察的取締而當街和交通警察發生衝突，請問某人可能犯了下列哪一種罪？
(A)妨害公務罪 (B)誣告罪 (C)公然侮辱罪 (D)內亂罪
19. 后豐大橋斷橋事件中的受難家屬，要請求國家賠償。請問該請求權的時效，是從知道有損害時起多久，不行使就消滅？
(A)半年 (B)一年 (C)二年 (D)三年
20. 逃避服兵役的義務，是一種什麼行為？
(A)只是違反道德的行為 (B)違反習俗的行為 (C)可以允許的行為 (D)屬於犯罪行為

21. 小琪今年滿 17 歲，男朋友阿翔剛滿 19 歲。依據我國民法規定，如果他們要結婚，是否需經監護人的同意？
- (A) 只須徵得男方監護人的同意即可
(B) 只須徵得女方監護人的同意
(C) 均須徵得雙方監護人的同意
(D) 皆已達到結婚的法定年齡，均不須監護人的同意
22. 依據民法的新修定，婚姻有效力的要件為何？
- (A) 填寫結婚證書並簽名蓋章 (B) 有兩個以上的證人，並到戶政機關登記
(C) 必須先經訂婚的手續 (D) 舉行公開儀式，並有兩個以上的證人
23. 依據刑法的規定，年滿幾歲犯罪就要負全部的刑事責任？
- (A) 14 (B) 16 (C) 18 (D) 20 歲
24. 下列何者『不』屬於智慧財產權的範圍？
- (A) 繼承權 (B) 著作權 (C) 商標權 (D) 專利權
25. 下列何者『不』受勞動基準法的規範？
- (A) 政府機關公務員 (B) 電子工廠的操作員
(C) 國營事業的員工 (D) 肯德基的工讀生
26. 在台灣，敬老福利津貼需要年滿幾歲才可以領取？
- (A) 60 (B) 65 (C) 70 (D) 75 歲
27. 人們生活在社會中，常有各種「社會規範」存在，其中哪一項最具強制性？
- (A) 風俗 (B) 道德 (C) 宗教 (D) 法律
28. 我國的法律在立法院制定後，由誰公布施行？
- (A) 總統 (B) 行政院院長 (C) 司法院院長 (D) 監察院院長
29. 小玲遭受家暴，要打全國婦幼保護專線電話求助，其號碼是：
- (A) 106 (B) 113 (C) 117 (D) 189
30. 侵害他人著作權的責任是：
- (A) 只負道義責任 (B) 只有民事責任
(C) 同時有民事、刑事責任 (D) 只有刑事責任
31. 大雄向電視購物台買了一台筆記型電腦，收到商品後覺得不滿意。請問大雄可在收到商品後幾日內退貨？
- (A) 5 日 (B) 7 日 (C) 10 日 (D) 15 日
32. 我國現行司法體系內的普通法院，審理案件是採行：
- (A) 一級一審制 (B) 二級二審制 (C) 三級三審制 (D) 三級四審制
33. 法院的人員中，何者是代表國家偵查以及追訴犯罪？
- (A) 法官 (B) 法警 (C) 書記官 (D) 檢察官
34. 「電腦輔助教學」的英文簡稱為？
- (A) CAD (B) CAI (C) CAE (D) CAM

35. 下列何者不是所謂的「3C」之一？
 (A)電腦 (B)通訊設備 (C)消費性電子 (D)汽車
36. 如果想透過電腦來聆聽杜比 5.1 聲道的高品質音樂，除了搭配高階喇叭外，對於下列何種介面卡的品質也需要求？
 (A)音效卡 (B)網路卡 (C)顯示卡 (D)SCSI 卡
37. 在流程圖符號中，決策判斷的圖形為：
 (A)  (B)  (C)  (D) 
38. 依據電腦所使用的電子元件來劃分電腦世代，請問第一代電腦所使用的電子元件為？
 (A)積體電路 (B)電晶體 (C)真空管 (D)超大型積體電路
39. 請問您收到一張職稱為「EC 部門專員」的名片，請問該專員的工作內容最有可能為？
 (A)電子商務 (B)實體行銷 (C)冷凍物流 (D)跨國快遞
40. 利用拍賣網站所提供的平台，進行個人物品拍賣的交易方式是屬於電子商務中的？
 (A)B2B (B)C2C (C)C2B (D)B2C
41. 依據著作權法的規定，下列何者最不可能在相關出租店租到？
 (A)雜誌、漫畫 (B)錄影帶 (C)程式光碟 (D)DVD 影片
42. 租用小型辦公室，或利用住家的空間來從事創作或接案的一種新興職業方式稱為？
 (A)BINGO 族 (B)通勤族 (C)SOHO 族 (D)草莓族
43. 如果對於前往的目的地交通動線不熟悉，請問可以採用下列何種設備來輔助？
 (A)GPS (B)GMP (C)CAS (D)CAT
44. 請問透過何種電腦及網路的運用，可以查詢到國家公園的相關資訊？
 (A)ICQ (B)搜尋引擎 (C)E-mail (D)部落格
45. 如果公司全部採用 Windows XP 當作業系統，公司現在有 10 位員工、5 部電腦，請問上述情況需要購買幾套正版的 Windows XP 作業系統？
 (A)1 套 (B)2 套 (C)5 套 (D)10 套
46. 影響資訊安全的因素有哪些？(甲)人為蓄意破壞 (乙)自然意外災害 (丙)人員作業疏失 (丁)軟、硬體設備故障
 (A)甲乙 (B)丙丁 (C)甲丁 (D)甲乙丙丁
47. 最適合用來撰寫、編輯及列印各種文件資料的軟體是：
 (A)文書處理軟體 (B)簡報軟體 (C)資料庫軟體 (D)繪圖軟體
48. 電腦資料最小的儲存單位為：
 (A)歐元 (B)美元 (C)字元 (D)位元
49. 需要印製彩色全開宣傳海報，請問應購買下列何種設備較為適宜？
 (A)黑白噴墨印表機 (B)彩色雷射印表機
 (C)黑白雷射印表機 (D)繪圖機(Plotter)。
50. 一般電腦處理資料所用的數字系統為？
 (A)二進位 (B)七進位 (C)十進位 (D)六十進位